



**PREFEITURA  
DA CIDADE DO RIO DE JANEIRO  
SECRETARIA MUNICIPAL DE EDUCAÇÃO  
SUBSECRETARIA DE ENSINO  
COORDENADORIA DE EDUCAÇÃO**

**MATEMÁTICA  
PROVA 1º BIMESTRE  
5º ANO**

Confecção da Prova: Elaine dos Santos Salazar  
Martha Francisca da Silva

**2010**

## PROVA DE MATEMÁTICA – 5º ANO

### QUESTÃO 01

O resultado da operação

$$5\ 735 + 328$$

é

- (A) 5063.
- (B) 5463.
- (C) 6053.
- (D) 6063.

### QUESTÃO 02

Para a organização da tabela dos jogos da Copa do Mundo, os 48 países participantes foram divididos em 8 grupos com a mesma quantidade de times. Cada grupo ficou com

- (A) 6 países .
- (B) 7 países.
- (C) 8 países.
- (D) 9 países.



[www.blogspot.com.br](http://www.blogspot.com.br)

### QUESTÃO 03

Na escola de Gabriela, foi realizado um baile de Carnaval. Dos 754 alunos, faltaram 348. Foram ao baile

- (A) 404 alunos.
- (B) 406 alunos .
- (C) 414 alunos .
- (D) 416 alunos.




[www.blogspot.com.br](http://www.blogspot.com.br)

### QUESTÃO 04

Paulo comprou o seguinte material escolar:

1 vidro de cola R\$ 1,00  
1 borracha R\$ 0,50  
1 tesoura R\$ 2,00  
1 apontador R\$ 1,50



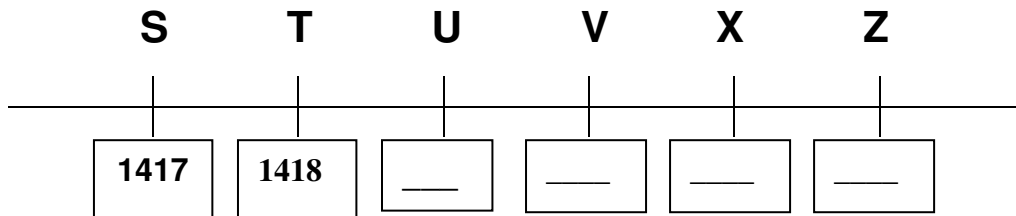
Ao todo, Paulo gastou:

- (A) R\$ 4,00.
- (B) R\$ 4,50.
- (C) R\$ 5,00.
- (D) R\$ 5,50.

[www.blogspot.com.br](http://www.blogspot.com.br)

## QUESTÃO 05

Observe a reta numérica abaixo:




Nessa reta numérica, o número **1420** encontra-se na letra

- (A) U.
- (B) V.
- (C) X.
- (D) Z.

## QUESTÃO 06

Para informar sobre os principais sintomas da Dengue, 6 amigos resolveram distribuir alguns folhetos.



[www.blogspot.com.br](http://www.blogspot.com.br)

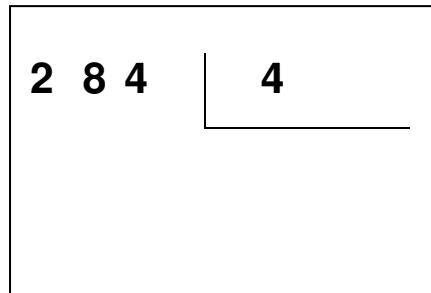
Cada um distribuiu 45 panfletos. Ao todo, foram distribuídos

- (A) 240 panfletos.
- (B) 265 panfletos.
- (C) 270 panfletos.
- (D) 275 panfletos.

### QUESTÃO 07

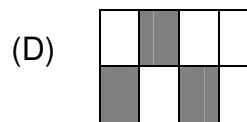
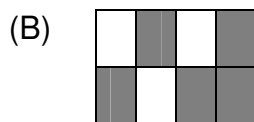
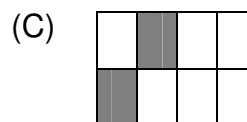
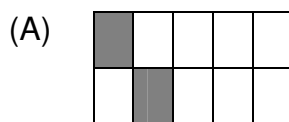
O resultado da divisão ao lado é

- (A) 70.
- (B) 71.
- (C) 81.
- (D) 82.



### QUESTÃO 08

Considerando as partes pintadas, a figura que corresponde à fração  $\frac{2}{8}$  é:



### QUESTÃO 09

No número **2010**, o algarismo **1** ocupa a ordem das

- (A) dezenas simples.
- (B) centenas simples.
- (C) unidades de milhar.
- (D) dezenas de milhar.

## QUESTÃO 10

### Você sabia?

Em 2010 estaremos celebrando os 100 anos do nascimento do compositor Noel Rosa.  
Ele nasceu no dia 11 de dezembro de **1910**, em Vila Isabel, na cidade do Rio de Janeiro.



[WWW.memoriaviva.com.br](http://WWW.memoriaviva.com.br)

No número **1910**, o valor posicional do algarismo **9** é

- (A) 90.
- (B) 900.
- (C) 9 mil.
- (D) 90 mil.